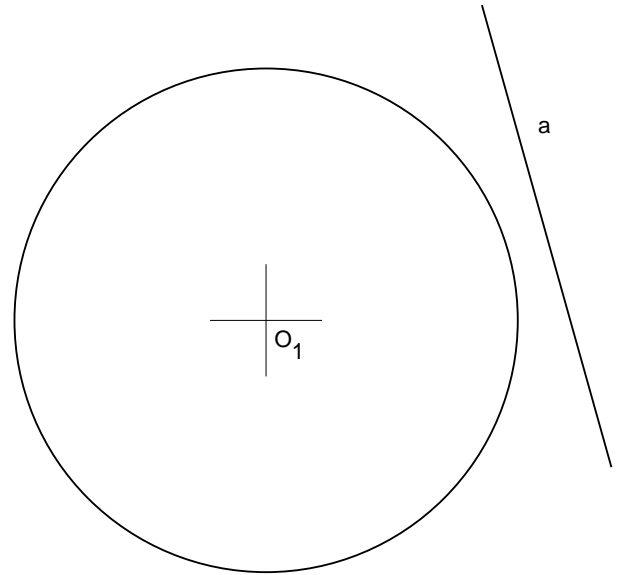


# LUGARES GEOMÉTRICOS

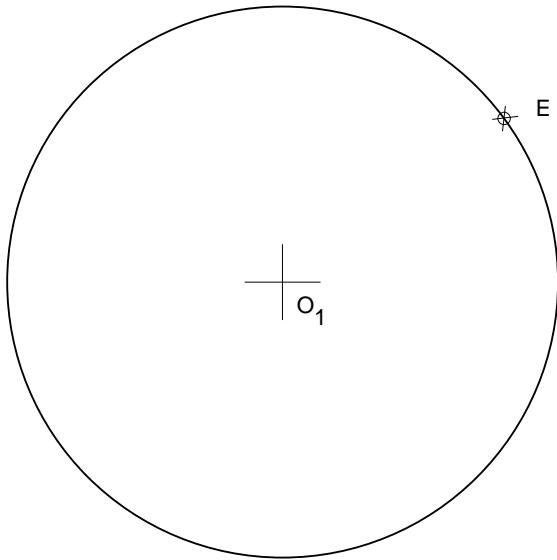
Los LG. son la Bisectriz, la Mediatriz y el Arco Capaz



Dados 1 punto y una recta, trazar rectas desde el punto a dicha recta.  
Hallar los puntos medios de dichos segmentos.



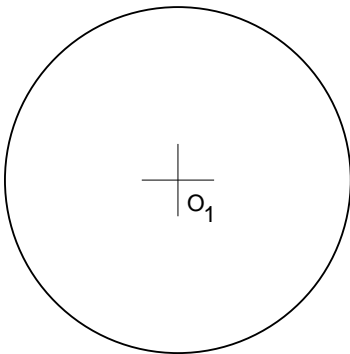
Hallar los puntos medios de cuerdas paralelas a la dirección dada.



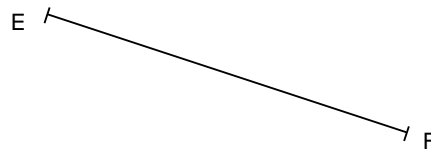
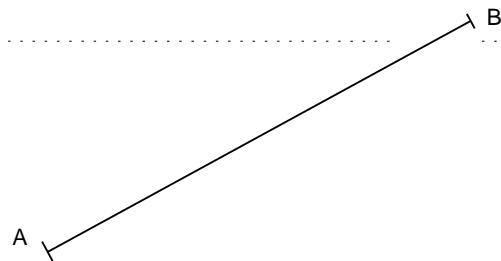
Hallar los puntos medios de las cuerdas que pasan por el punto E de una circunf.



Trazar una circunferencia que equidiste de 3 puntos conocidos.



Hallar el LG. desde el cual se vea la circunf. bajo un ángulo de  $45^\circ$



Situar puntos en el pl. desde los que se vean los segmentos conocidos bajo un ángulo de  $45^\circ$ .